

BTS OPTICIEN-LUNETIER

MATHÉMATIQUES

Session 2024

Durée : 2 heures

Coefficient : 2

L'usage de la calculatrice avec mode examen actif est autorisé.

L'usage de la calculatrice sans mémoire, « type collègue » est autorisé.

Dès que le sujet vous est remis, assurez-vous qu'il soit complet.

Le sujet comporte 8 pages, numérotées de 1/8 à 8/8.

BTS OPTICIEN LUNETIER		Session 2024
Mathématiques	Code : 24OLMAT	Page : 1/8

EXERCICE 1 (10 points)

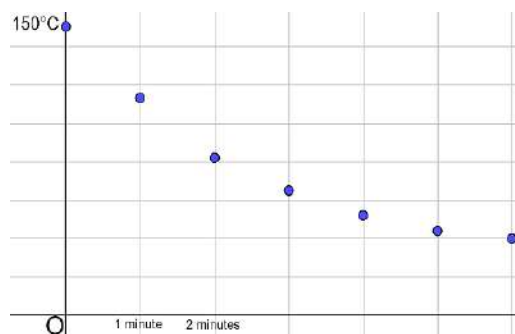
Pour fabriquer des montures, on chauffe un matériau à 150°C puis on le sort du four et on le laisse refroidir à température ambiante (28°C).

Les trois parties peuvent être traitées de manière indépendante.

Partie A. Étude d'une série statistique

Pour étudier le refroidissement du matériau, on a réalisé des relevés de température et réalisé un croquis.

Temps t (minutes)	0	1	2	3	4	5	6
Température y (°C)	150	113	82	65	52	44	40



1. Expliquer pourquoi un ajustement affine de y en t n'est pas pertinent.
2. On pose : $z = \ln(y - 28)$.
Recopier et compléter le tableau. Les valeurs de z seront arrondies au centième.

Temps t (minutes)	0	1	2	3	4	5	6
Température y (°C)	150	113	82	65	52	44	40
$z = \ln(y - 28)$	4,80	4,44					

3. On note r le coefficient de corrélation linéaire de la série $(t ; z)$.
On sait que $r \simeq -0,999$.

Sur la base de cette information, répondre aux deux questions suivantes en justifiant.

- a. La corrélation de la série $(t ; z)$ est-elle bonne ?
- b. Le nuage de points $(t ; z)$ a-t-il une allure croissante ?

4. À l'aide de la calculatrice, donner l'équation de la droite de régression linéaire de z en t , selon la méthode des moindres carrés, sous la forme $z = at + b$. Les coefficients a et b seront arrondis à 10^{-1} .

5. En déduire une expression de y en fonction de t sous la forme :

$$y = Ce^{-0,4t} + 28 ,$$

où C est une constante que l'on arrondira à l'unité.

Partie B. Équation différentielle

On considère l'équation différentielle

$$(E) : 5y' + 2y = 56 ,$$

où y est une fonction inconnue de la variable t , définie et dérivable sur l'intervalle $[0 ; +\infty[$, et où y' est sa fonction dérivée.

1. Déterminer les solutions de l'équation différentielle

$$(E_0) : 5y' + 2y = 0 .$$

On fournit la formule suivante :

Équation différentielle	Solutions sur un intervalle I
$ay' + by = 0$	$f(t) = ke^{-\frac{b}{a}t}$

2. Soit A un nombre réel. On considère la fonction constante g , définie par $g(t) = A$. Déterminer A pour que la fonction g soit solution de l'équation différentielle (E) .

3. En déduire les solutions de l'équation différentielle (E) .

4. Déterminer la fonction f , solution de l'équation différentielle (E) , qui vérifie la condition initiale $f(0) = 150$.

Partie C. Étude de fonction

On considère la fonction f définie sur $[0 ; +\infty[$ par :

$$f(t) = 122e^{-0,4t} + 28.$$

On admet que la fonction f modélise l'évolution de la température du matériau au fil du temps : ainsi, $f(t)$ représente la température, en degrés Celsius, t minutes après la sortie du four.

1. Donner la limite de f en $+\infty$. Ce résultat est-il cohérent avec le contexte de l'exercice ?
2. On cherche à partir de quel instant la température du matériau devient inférieure à 50°C .
 - a. Montrer que cela revient à résoudre l'inéquation : $e^{-0,4t} \leq \frac{11}{61}$.
 - b. Résoudre cette inéquation, puis, déterminer à partir de quel instant, exprimé en minutes et secondes, la température devient inférieure à 50°C .
3. On considère la fonction F définie sur l'intervalle $[0 ; +\infty[$ par :

$$F(t) = -305e^{-0,4t} + 28t.$$

Vérifier que la fonction F est une primitive de la fonction f sur l'intervalle $[0 ; +\infty[$.

4. Déterminer la température moyenne du matériau durant les 6 premières minutes qui suivent la sortie du four. Arrondir au dixième.

On fournit pour cela la formule suivante :

Valeur moyenne d'une fonction f sur l'intervalle $[a ; b]$.

$$M = \frac{1}{b-a} \int_a^b f(t) dt.$$

EXERCICE 2 (10 points)

Les quatre parties sont indépendantes.

Partie A. Probabilités conditionnelles

Le tableau ci-dessous décrit le stock de paires de lunettes d'un opticien.

	Verres Polarisés L	Verres Photochromiques H	Autre type de verre. A	Total
Modèle <i>CLASSIQUE</i> C	17,5 %	10,5 %	42 %	70 %
Modèle <i>SPORT</i> S	16,5 %	10,5 %	3 %	30 %
Total	34 %	21 %	45 %	100 %

Le tableau ci-dessus permet ainsi de voir notamment que :

70 % des paires de lunettes sont des modèles CLASSIQUE.

3 % des paires de lunettes sont des modèles SPORT équipées d'un autre type de verre.

21 % des paires de lunettes sont équipées de verres photochromiques.

On prélève au hasard une paire de lunettes. On considère les événements suivants :

C : La paire de lunettes est un modèle CLASSIQUE.

S : La paire de lunettes est un modèle SPORT.

L : La paire de lunettes est équipée de verres polarisés.

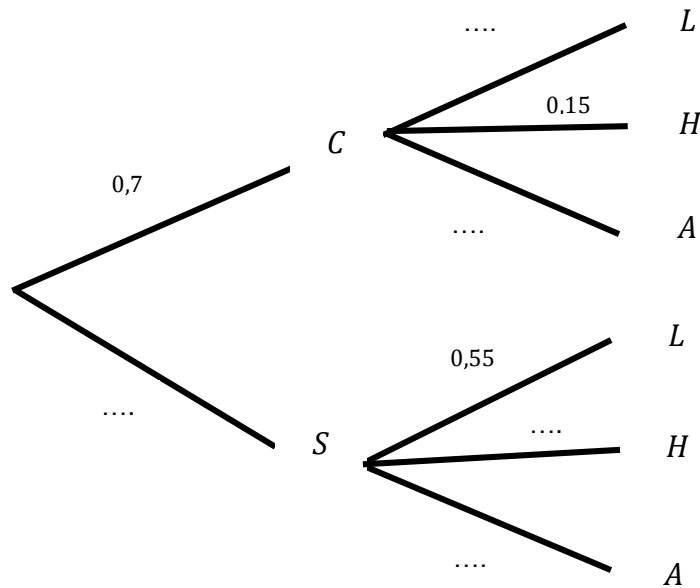
H : La paire de lunettes est équipée de verres photochromiques.

A : La paire de lunettes est équipée d'un autre type de verre.

Les résultats seront arrondis, le cas échéant, au millième.

1. Donner la valeur de la probabilité $P(L \cap S)$.
2. Déterminer la probabilité $P(L \cup S)$.
3. Déterminer la valeur de la probabilité de L sachant S , notée $P_S(L)$.
4. Les événements L et S sont-ils indépendants ? Justifier.

5. Recopier et compléter l'arbre suivant qui représente la situation décrite par le tableau.



Partie B. Loi binomiale

Parmi les clients de l'opticien, la proportion de retraités est égale à 62 %.

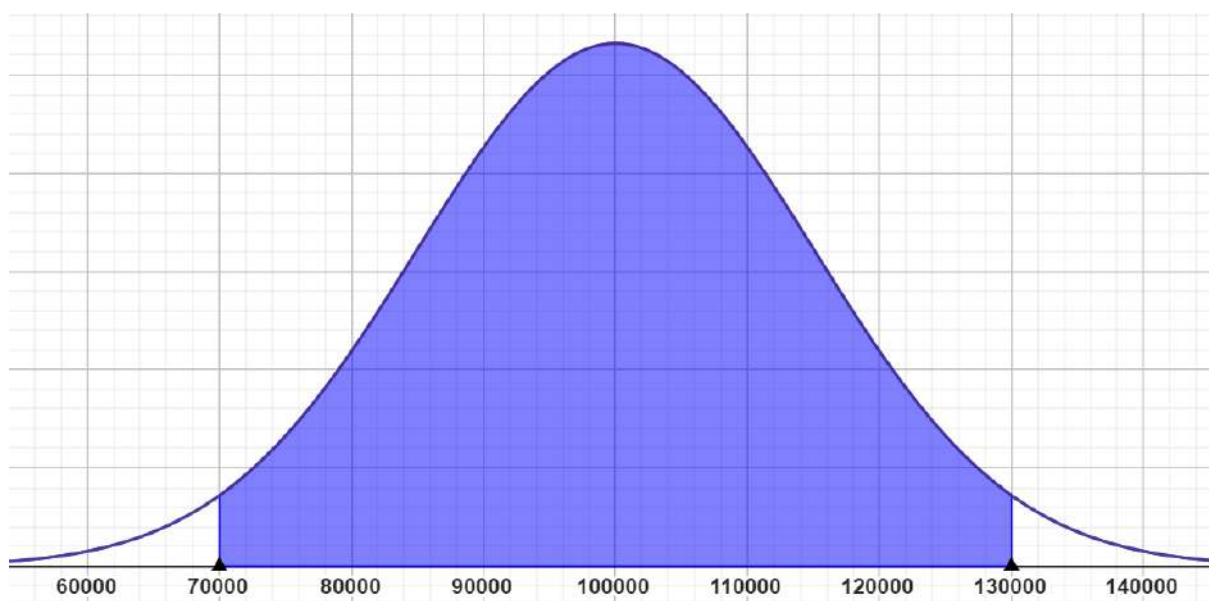
Un jour donné, l'opticien accueille 90 clients. On note X la variable aléatoire qui donne le nombre de retraités parmi les 90 clients accueillis ce jour.

1. On admet que la variable aléatoire X suit une loi binomiale.
Donner ses paramètres ainsi que son espérance.
2. Donner la probabilité $P(X = 55)$. Arrondir au millième.
3. Quelle est la probabilité qu'au moins 50 % des clients accueillis ce jour soient des retraités ? Arrondir au millième.

Partie C. Loi normale

Le chiffre d'affaire d'un opticien en 2023 a été égal à 80 000 euros. Il espère que son chiffre d'affaire en 2024 sera supérieur.

Son chiffre d'affaire, en euros, estimé pour 2024, est donné par une variable aléatoire Z qui suit une loi normale dont la courbe de densité est représentée ci-dessous.



1. On note μ l'espérance de la variable aléatoire Z .
Déterminer graphiquement la valeur de μ .
2. On note σ l'écart-type de la variable aléatoire Z .
On sait que la zone grisée correspond à une probabilité égale à 0,95.
Expliquer pourquoi on a : $\sigma \approx 15\,000$.
3. Quelle est la probabilité que le chiffre d'affaire en 2024 soit supérieur que celui de 2023 ? Arrondir au millième.
4. Si, entre 2023 et 2024, son chiffre d'affaire augmente de 30 %, l'opticien embauchera un nouvel employé.
Quelle est la probabilité que l'opticien embauche un nouvel employé ? Arrondir au millième.

Partie D. Test d'hypothèse

Afin de développer le commerce, une commune rurale décide de construire des parkings pour les commerçants dont la proportion de clients venant en voiture est comprise entre 50 % et 60 %. Lorsque la proportion est inférieure, le parking n'est pas nécessaire. Lorsque la proportion est supérieure, le commerçant devra obligatoirement s'installer en périphérie de la commune.

Un opticien affirme à la mairie de cette commune que 55 % de ses clients viennent en voiture.

Afin de contrôler cette affirmation, la mairie met en place un test bilatéral au seuil de 5 % sur un échantillon aléatoire de 130 clients.

On note F la variable aléatoire qui, à chaque échantillon aléatoire de 130 clients, associe la proportion de ceux qui viennent en voiture. On suppose que F suit une loi normale d'espérance p inconnue et d'écart-type $\sqrt{\frac{p(1-p)}{130}}$.

L'hypothèse nulle est $H_0 : « p = 0,55 »$.

L'hypothèse alternative est $H_1 : « p \neq 0,55 »$.

1. Justifier que, sous l'hypothèse nulle, la variable aléatoire F suit une loi normale d'espérance 0,55 et d'écart-type 0,044.

2. Déterminer, sous l'hypothèse nulle, le réel positif h tel que :

$$P(0,55 - h < F < 0,55 + h) = 0,95.$$

3. Sur un échantillon de 130 clients, la mairie a noté que 88 étaient venus en voiture. Que peut-on conclure ?